

# OBYVATELSTVO A HOSPODÁŘSTVÍ AFRIKY

5. Přiřaďte k fotografiím správné názvy afrických plodin.



bavlník



kaučukovník



povijnice batátová



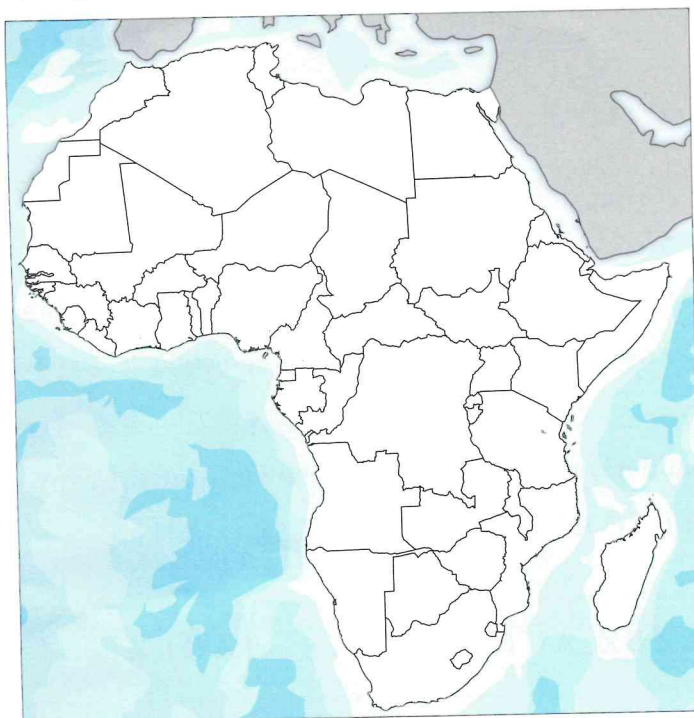
rýže

Většina se jich pěstuje na plantážích. Plantáž je .....

6. Označte správná a chybná tvrzení.


Tvrzení	Ano	Ne
a) V Africe žije cca 1 miliarda obyvatel a neustále jich přibývá.		
b) Afrika je hospodářsky nejzaostalejší světadíl na Zemi. Je zde vysoká kriminalita.		
c) Většina obyvatel žije na venkově. Velkoměsta jsou lemována slumy a chudinskými čtvrtěmi.		
d) V řadě afrických zemí jsou války nebo nepokoje. Státy jsou politicky nestabilní.		
e) V Africe je nízká vzdělanost obyvatel.		

7. Zakreslete do mapy hlavní oblasti těžby surovin uvedených v legendě. Vzpomeňte si, jaké značky se používají ve školním atlasu, a doplňte je do legendy.




Legenda:

- ropa
- diamanty
- černé uhlí
- mangan
- fosfáty
- uran
- měď



ropná věž



diamantový důl

Poznámky: \_\_\_\_\_



# OPAKOVÁNÍ – PŘÍRODNÍ PODMÍNKY, OBYVATELSTVO A HOSPODÁŘSTVÍ AFRIKY

Vyberte jednu správnou odpověď.

**1. Africký průplav je:**

- a) Panamský
- b) Korintský
- c) Suezský

**2. Suchá a chudá oblast navazující na Saharu je:**

- a) Kalahari
- b) sahel
- c) Konžská pánev



**3. Vyschlé (občasné) říční koryto je:**

- a) vádí
- b) eben
- c) sucháč

**4. V Africe nenajdeme podnebný pás:**

- a) subtropický
- b) mírný
- c) tropický

**5. Mezi původní obyvatelé Afriky patří:**

- a) Mayové
- b) Maorové
- c) Arabové

**6. „Burské oříšky“ jsou semena:**

- a) povijnice batátové
- b) podzemnice olejné
- c) burákovníku



**7. Původní africkou plodinou je:**

- a) kávovník
- b) kakaovník
- c) čajovník

**8. V severní Africe se těží zejména:**

- a) fosfáty a ropa
- b) diamanty a zlato
- c) železná ruda a uran

**9. Nevyléčitelnou nemocí sužující Afriku je:**

- a) cholera
- b) AIDS
- c) tuberkulóza

**10. Hovězím dobytčím chovaným v Africe je:**

- a) velbloud
- b) slon
- c) zebu

Doplňte sebehodnocení souhrnného opakování.

Svůj výkon hodnotím					
	ano	spíše ano	spíše ne	ne	nevím
Byly pro mě úkoly jednoduché?					
Bavily mě úkoly?					
Zlepšil/a jsem se?					

Poznámky: .....

.....

.....

.....

.....

.....

.....

.....

.....



rezervace Ngorongoro

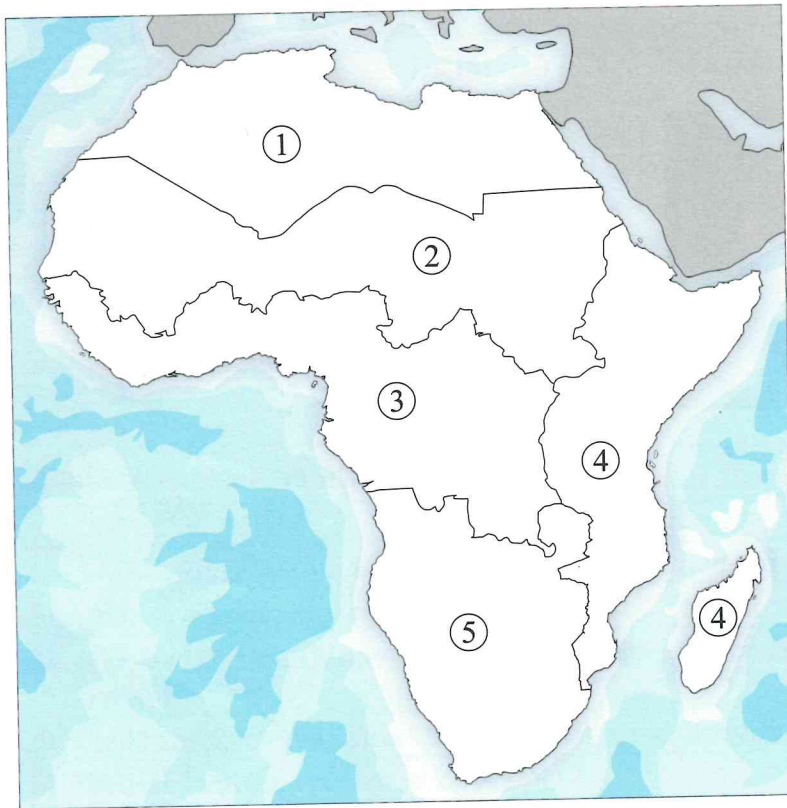
Poznámky: .....

# 4. REGIONY AFRIKY

Na základě referenda z ledna roku 2011 vznikl 9. července 2011 nový nezávislý stát, Jižní Súdán. Jižní Súdán se tak stal 196. nezávislým státem světa. Vznikl oddělením jedné třetiny území na jihu bývalého největšího afrického státu Súdán.

Vyhledejte na mapě, co je pro Jižní Súdán typické (např. těžba, řeka).....

## 1. Pojmenujte jednotlivé regiony Afriky a vybarvěte je podle vámi zvolené legendy.



Legenda:

- 1. ....
- .....
- 2. ....
- 3. ....
- .....
- 4. ....
- 5. ....

Zakreslete do mapy obratník Raka, obratník Kozoroha, rovník a nultý poledník.

## 2. Vyluštěte osmisměrku. Zbylá písmena tvoří tajenku.

M L I B Y E I N Á T I R U A M  
 A L Ž Í R S K O G Z A M B I E  
 L N E V R O E I N A Z N A T P  
 I S G M A N I K R U B B I U K  
 É D S O M Á L S K O G O T N A  
 L L Š S L R I A Z Í P T N I V  
 A T Y A N A M I B I E S O S A  
 G P S M P Ě A Ň E K L W K K D  
 E Y É B E I R É G I N A O O N  
 N G N I G E R S Ú D Á N R D A  
 E E Z K A M E R U N G A A E G  
 S E W B A B M I Z O M Č M Ě U

Pojmy k vyškrtání:

Alžírsko, Angola, Botswana, Burkina, Čad, Egypt, Etiopie, Gabon, Kamerun, Keňa, Kongo, Libye, Mali, Maroko, Mauritanie, Mosambik, Namibie, Niger, Nigérie, Senegal, Somálsko, Súdán, Tanzanie, Togo, Tunisko, Uganda, Zair, Zambie, Zimbabwe.

Tajenka: .....

a .....

.....

.....

Napište, jaký význam pro Afriku mají tyto země.

Poznámky: .....

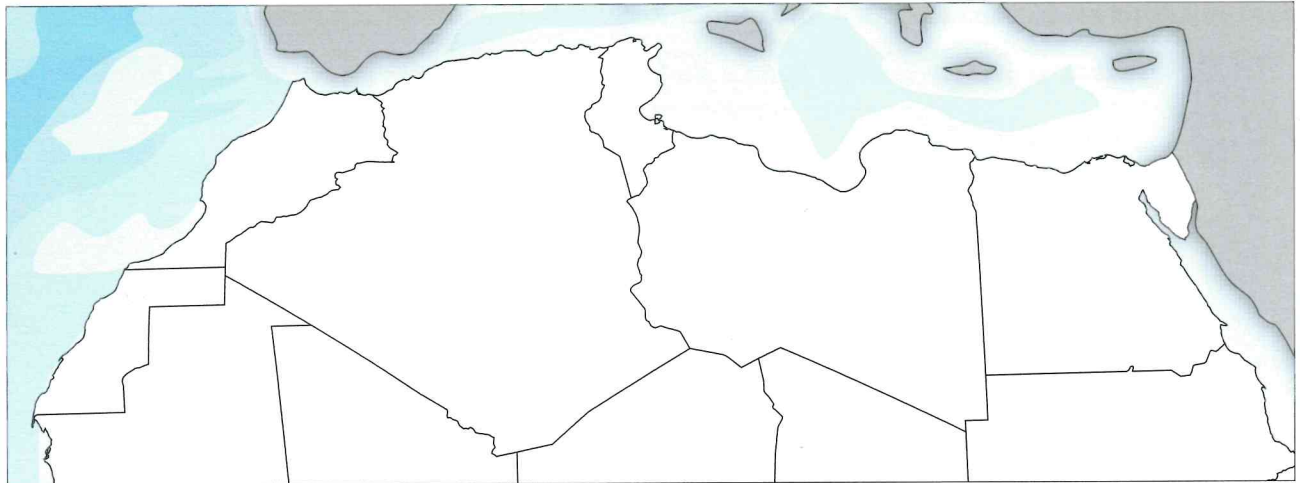


# ARABSKÁ SEVERNÍ AFRIKA

*Muammar Kaddáfí byl libyjským vůdcem od roku 1969. Byl jedním z nejdéle vládnoucích panovníků světa. Teprve demonstrace a následný ozbrojený konflikt odstavily Kaddáfího od moci. V srpnu roku 2011 rebelové dobyli hlavní město Tripolis a v říjnu stejného roku byl Kaddáfí zabit.*

Kolik let vládl M. Kaddáfí? .....

## 1. Pojmenujte státy severní Afriky, označte je na mapě a doplňte tabulku.



	Stát	Hlavní město	Charakteristický znak
1.			
2.			
3.			
4.			
5.			

## 2. Vysvětlete pojmy.

delta – .....

oáza – .....

Gíza – .....

## 3. Doplňte.

V severní Africe jsou převažujícím etnikem ..... a ....., kteří patří do europoidní rasy. Těží se zde zejména ..... a .....

Pěstují se ..... a citrusy. Mezi Středozemním a Rudým mořem leží ..... poloostrov. Na Nilu byla postavena ..... přehrada. Dopravním spojením mezi Afrikou a Asií je .....

průplav. Největším městem Afriky je hlavní město Egypta ..... Většina obyvatelstva Egypta žije v údolí řeky ..... Starověké město ..... se nachází v .....

Poznámky: \_\_\_\_\_

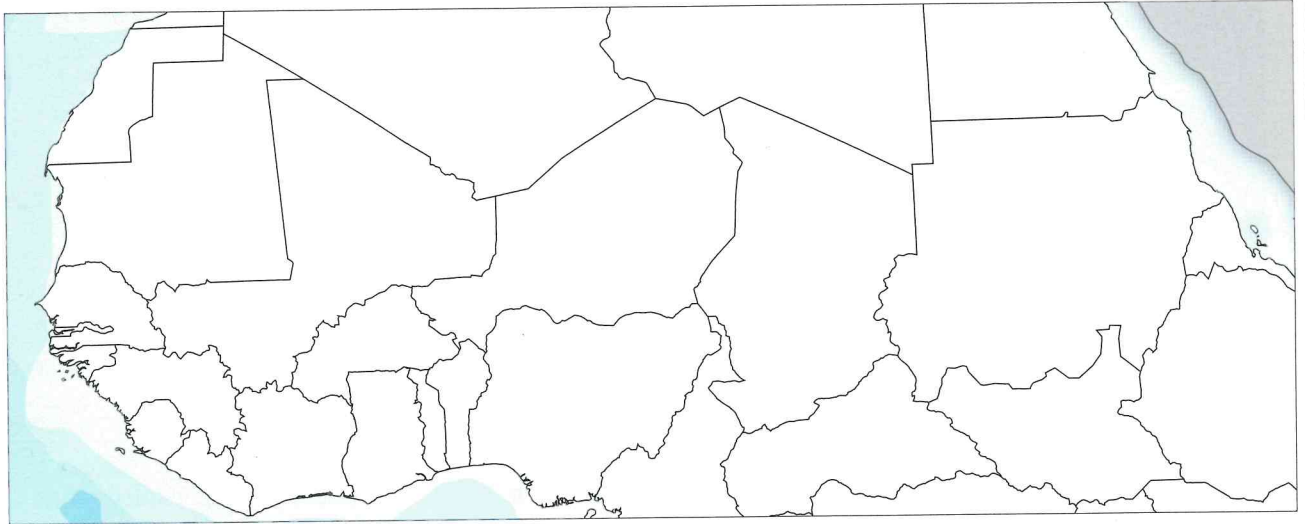


# SAHEL

Oblast sahelu trpí v posledních letech dlouhými obdobími sucha. Dochází tak k rychlému rozšiřování Sahary – tzv. desertifikaci. Snižuje se kvalita půdy a porosty se nestačí obnovovat. Problém zhoršují zvyšující se stavy skotu, který vypásá vegetaci a svými kopyty narušuje půdu. Při období dešťů tak dochází k rozsáhlé erozi.

Co je to desertifikace? .....

## 1. Pojmenujte státy sahelu a jejich hlavní města, označte je na mapě a popište.



## 2. Vysvětlete pojmy.

UNICEF – .....

Tuareg – .....

sahel – .....

arabská guma – .....

## 3. Označte správná a chybná tvrzení.

Tvrzení	Ano	Ne
a) Súdán a Mali patří mezi nejchudší státy světa.		
b) V oblasti sahelu se nejčastěji chovají velbloudi a sloni.		
c) Do oblasti sahelu patří pouze čtyři státy.		
d) Pro oblast sahelu je typický přebytek pitné vody.		
e) Významným zdrojem obživy v oblasti sahelu je rybolov.		
f) Súdán je největší africkou zemí.		
g) V oblasti sahelu žijí kočovné kmeny.		
h) Severní část sahelu tvoří Sahara.		



## 4. Vyberte správná tvrzení.

V sahelské oblasti je vysoká gramotnost/negramotnost. Státisíce lidí trpí/netrpí hladem, nemocemi a dostatkem/nedostatkem pitné vody. V řadě států probíhají/neprobíhají ozbrojené konflikty. Ze zahraničí sem směřuje humanitární/psychologická pomoc.

Poznámky: .....

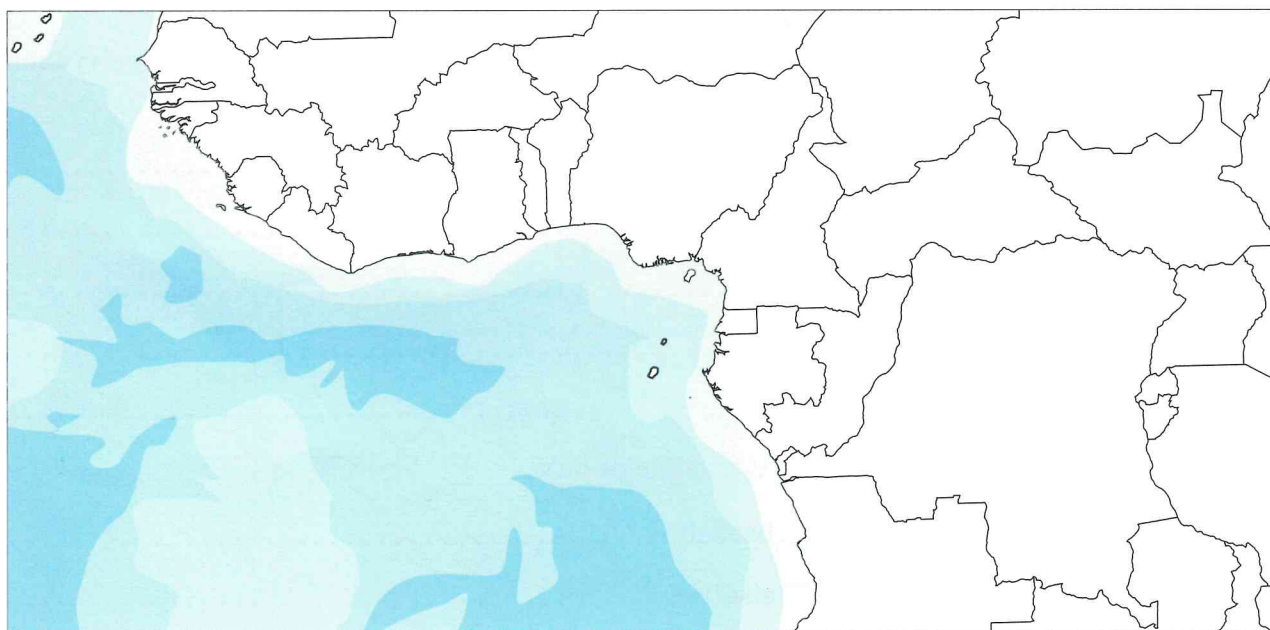


# ZEMĚ GUINEJSKÉHO ZÁLIVU A POVODÍ KONGA

Konžská demokratická republika má obrovské přírodní bohatství – velké zásoby nerostných surovin i příznivé klimatické podmínky. Kvůli vnitřním konfliktům, občanským válkám a špatnému, nedemokratickému vedení státu ale není dostatečně využíváno, republika proto patří mezi nejchudší země světa. Situace se ale v posledních letech zlepšuje, zejména díky mezinárodní spolupráci, a HDP Konga roste.

Ve školním atlasu vyhledejte, které nerostné suroviny se těží v Konžské demokratické republice. . . .

## 1. Pojmenujte velké státy Guinejského zálivu a povodí Konga a označte je na mapě.



## 2. Doplňte.

Oblastí Guinejského zálivu prochází . . . . . Typické je . . . . .  
rovníkové podnebí s častými . . . . . Značná část oblasti je porostlá . . . . .  
. . . . . lesy. Okolo Guinejského zálivu jsou velké zásoby . . . . .  
. . . . ., z nichž je nejcennější . . . . . a . . . . .

## 3. Co je charakteristické pro podnebí v tomto regionu?

. . . . .

## 4. Zjistěte ze školního atlasu.

- Které nerostné suroviny se těží v této oblasti? . . . . .  
. . . . .
- Co se zde pěstuje? . . . . .  
. . . . .  
. . . . .
- Vypište dvě největší řeky této oblasti. . . . .

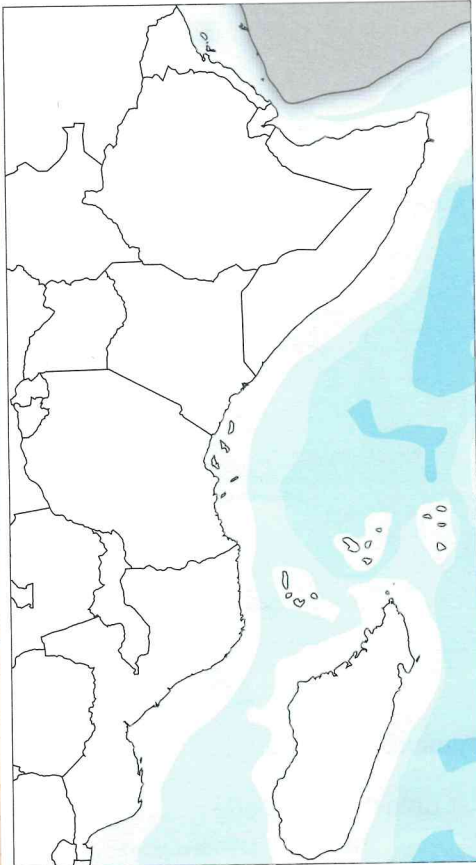
Poznámky: \_\_\_\_\_



# VÝCHODNÍ AFRIKA

*V roce 1991 v Somálsku vypukla občanská válka a celý stát se prakticky zhroutil. Dodnes se nepodařilo sestavit funkční vládu, i když od roku 2016 v zemi probíhají demokratické volby a situace se mírně zlepšuje. Zemi stále sužují vojenské konflikty. Zhruba třetinu státu ovládá teroristická skupina al-Šabat, která chce v tomto islámském státě vytvořit chalífát s přísným právem šaría. Situaci v zemi ještě zhoršují katastrofální sucha, která prohlubují hladomor, jimž jsou ohroženy miliony lidí. Somálsko je tak závislé na mezinárodní humanitární pomoci.*

Které náboženství převažuje v Somálsku? .....



**1. Pojmenujte státy východní Afriky a označte je na mapě.**

**2. Vyhledejte názvy některých národních parků ve východní Africe a určete jejich polohu.**

.....  
.....  
.....  
.....  
.....

**3. Vysvětlete pojmy.**

baobab – .....

sisal – .....

Zanzibar – .....


Velká africká propadlina – .....

Masaj – .....

Uhuru – .....

**4. Vyluštěte doplňovačku.**

1. Uskupením divoce žijících zvířat je...
2. Největším ostrovem východní Afriky je...
3. Travnaté porosty s občasnými stromy jsou...
4. Místem, kde se pěstuje hřebíček, je...
5. Kmenem žijícím na jihu Keni jsou...
6. V nížinách východní Afriky se pěstuje...
7. Oceán omývající pobřeží východní Afriky se nazývá...
8. Hospodářsky nejrozvinutější zemí východní Afriky je...



Jednou ze zemí východní Afriky je ..... (tajenka).

Co je charakteristické pro tuto oblast? .....

Poznámky: \_\_\_\_\_



# JIŽNÍ AFRIKA

Jihoafriická republika je jedním z nejrozvinutějších afrických států, přesto se potýká s vysokou nezaměstnaností, kriminalitou, korupcí nebo častým výskytem HIV a AIDS. V roce 1991 byl v zemi svržen apartheid, JAR však stále bojuje se sociální nerovností, pozice stran se ale vyměnily a roste odpor proti lidem bílé pleti. Xenofobní nálady ještě zhoršuje imigrace z chudších afrických zemí.

Co to byl apartheid? .....

## 1. Pojmenujte státy jižní Afriky a vybarvěte je podle vámi zvolené legendy.




Legenda:

<input type="text"/>	.....
<input type="text"/>	.....
<input type="text"/>	.....
<input type="text"/>	.....
<input type="text"/>	.....
<input type="text"/>	.....
<input type="text"/>	.....
<input type="text"/>	.....

## 2. Spojte pojmy, které k sobě patří.

- |                        |                                 |
|------------------------|---------------------------------|
| Kalahari               | největší vývozce zlata na světě |
| Jihoafriická republika | Viktoriiny vodopády             |
| Namibie                | brusírna diamantů               |
| Johannesburg           | Sanové (Křováci)                |
| Zambezi                | poušť Namib                     |



## 3. Vysvětlete pojmy.

- Okavango – .....
- Namib – .....
- Kalahari – .....

Poznámky: \_\_\_\_\_





# OPAKOVÁNÍ – REGIONY AFRIKY

Vyberte jednu správnou odpověď.

1. V severní Africe je významná těžba:

- a) uranu
- b) diamantů
- c) ropy

2. V sahelu se obyvatelstvo živí:

- a) pěstováním bavlny
- b) pastevectvím a pěstováním plodin
- c) lovem

3. Negramotnost v mnoha státech Afriky je:

- a) velmi nízká
- b) velmi vysoká
- c) vůbec není



4. Komáři přenášejí:

- a) spavou nemoc
- b) žlutou zimnici a malárii
- c) virus HIV

5. Hospodářsky nejrozvinutějším státem východní Afriky je:

- a) Tanzanie
- b) Keňa
- c) Jihoafrická republika

6. Hlavním městem Jihoafrické republiky je:

- a) Pretoria
- b) Kapské Město
- c) Johannesburg

7. Rozlohou největší africkou zemí je:


- a) Alžírsko
- b) Súdán
- c) Etiopie

8. Diamanty, zlato a uhlí jsou typické pro:

- a) Etiopii
- b) Jihoafrickou republiku
- c) Angolu

9. Na afrických plantážích se pěstuje zejména:

- a) bavlník
- b) koka
- c) lilek brambor



10. Strom se širokým kmenem (ve tvaru láhve) se nazývá:

- a) baobab
- b) akácie
- c) palma datlová

Doplňte sebehodnocení souhrnného opakování.

Svůj výkon hodnotím	😊	🙂	😐	☹️	😞
	ano	spíše ano	spíše ne	ne	nevím
Byly pro mě úkoly jednoduché?					
Bavily mě úkoly?					
Zlepšil/a jsem se?					

Poznámky: .....

.....

.....

.....


.....

.....

.....

.....

.....



vesnice v Tanzanii

Poznámky: \_\_\_\_\_

# ZÁVĚREČNÉ OPAKOVÁNÍ – AFRIKA

Vyberte jednu správnou odpověď.

**1. Rozlohou je Afrika:**

- a) největší světadíl na světě
- b) druhý největší světadíl na světě
- c) třetí největší světadíl na světě

**2. Nejvíce negramotných žije v oblasti:**

- a) sahelu
- b) jižní Afriky
- c) povodí Konga

**3. V Africe je velké množství:**

- a) sopek
- b) ostrovů
- c) zaledněných vrcholů



**4. Mezi africké řeky nepatří:**

- a) Limpopo
- b) Zambezi
- c) Colorado

**5. Severní Afriku obývají převážně:**

- a) černoši
- b) Arabové
- c) Sanové a Masajové

**6. Největším africkým jezerem je:**

- a) Viktoriino jezero
- b) Čadské jezero
- c) jezero Titicaca

**7. Do severní Afriky nepatří:**

- a) Maroko
- b) Alžírsko
- c) Súdán



**8. Světoznámé národní parky se nacházejí:**

- a) v Egyptě
- b) v Tanzanii
- c) v Nigérii

**9. Pro těžbu ropy je nejvýznamnější oblast:**

- a) Rudého moře
- b) Guinejského zálivu
- c) Mosambického průlivu



**10. Africké savany jsou oblasti, kde rostou:**

- a) mechy
- b) cedry
- c) baobaby

Doplňte sebehodnocení souhrnného opakování.

Svůj výkon hodnotím	😊	🙂	😐	☹️	😞
	ano	spíše ano	spíše ne	ne	nevím
Byly pro mě úkoly jednoduché?					
Bavily mě úkoly?					
Zlepšil/a jsem se?					

Poznámky: .....

.....

.....

.....

.....

.....

.....

.....

.....



Křováci

Poznámky: \_\_\_\_\_

# ZÁVĚREČNÉ OPAKOVÁNÍ – AMERIKA, AFRIKA

Vyberte jednu správnou odpověď.

1. Na Zemi žije přibližně:

- a) 7,5 miliardy lidí
- b) 8,5 miliardy lidí
- c) 9,5 miliardy lidí

2. Většinovým náboženstvím Izraele je:

- a) judaismus
- b) islám
- c) křesťanství

3. Základní lidské rasy jsou:

- a) mongoloidní, mestici a běloši
- b) europoidní, mongoloidní a negroidní
- c) černoši, europoidní a zambové

4. Zkratka hrubého domácího produktu je:

- a) PHD
- b) DPH
- c) HDP

5. Přírodní zdroje mohou být:

- a) obnovitelné a neobnovitelné
- b) neobnovitelné a recyklovatelné
- c) jednorázové a vícerázové

6. Do II. sektoru (druhovýroby) patří:

- a) školství
- b) průmysl
- c) zemědělství



7. Slum je:

- a) souměstí
- b) aglomerace
- c) chudinská čtvrť

8. Ke službám patří:

- a) školství, doprava a zemědělství
- b) cestovní ruch, obchod a průmysl
- c) zdravotnictví, školství a spoje

9. Nejsušší poušť světa je:

- a) Atacama
- b) Namib
- c) Sahara



10. Nejdelším pohořím na světě je/Jsou:

- a) Himálaj
- b) Kordillery
- c) Appalačské pohoří

11. Ameriku od Afriky odděluje:

- a) Tichý oceán
- b) Atlantský oceán
- c) Indický oceán



12. Ameriku neomývá:

- a) Sargasové moře
- b) Severní moře
- c) Beringovo moře

13. Nejvýše položeným jezerem světa s možností lodní dopravy je:

- a) Tanganika
- b) Titicaca
- c) Viktoriino jezero

14. Oblast mezi Panamskou a Tehuantepeckou šíjí se nazývá:

- a) Banánová Amerika
- b) Karibik
- c) Střední Amerika



15. Nejdelší řekou světa je:

- a) Kongo
- b) Limpopo
- c) Amazonka

16. Nejjižnějším bodem Ameriky je:

- a) Nová země
- b) Falklandy
- c) Ohňová země



17. Jezero Titicaca leží:

- a) v Severní Americe
- b) v Střední Americe
- c) v Jižní Americe

18. Prérie jsou stepi:

- a) v Jižní Americe
- b) v Severní Americe
- c) v Africe

Poznámky: \_\_\_\_\_

**19. Nejvyšší vodopád světa Salto Angel je:**

- a) v Kanadě
- b) v Bolívii
- c) ve Venezuele

**20. Původními obyvateli Ameriky jsou:**

- a) indiáni a Inuité
- b) černoši
- c) Španělé a Angličané

**21. Velká jezera leží na hranici:**

- a) Kanady a Aljašky
- b) USA a Kanady
- c) USA a Mexika

**22. Úředním jazykem v Brazílii je:**

- a) francouzština
- b) španělština
- c) portugalština

**23. Největší poušť Afriky je:**

- a) Namib
- b) Sahara
- c) Kalahari



**24. Sahel je označení pro krajinu mezi:**

- a) pohořím Atlas a Guinejským zálivem
- b) Středozemním mořem a Saharou
- c) jižním okrajem Sahary a savanou

**25. Mezi egyptské památky nepatří:**

- a) pyramidy v Gíze
- b) Viktoriiny vodopády
- c) Údolí králů

**26. Berbery nejčastěji najdeme:**

- a) v jižní Africe
- b) v severní Africe
- c) v oblasti Guinejského zálivu

**27. Největším africkým ostrovem je:**

- a) Madagaskar
- b) Gran Canaria
- c) Honšú



**28. Afrikou prochází:**

- a) pouze rovník
- b) rovník a nultý poledník
- c) pouze nultý poledník

**29. Rudé a Středozemní moře spojuje:**

- a) Suezský průplav
- b) Gibraltarský průliv
- c) Mosambický průliv

**30. Madagaskar je ostrovní stát ležící:**

- a) na jihovýchodě Ameriky
- b) v Guinejském zálivu
- c) na jihovýchodě Afriky

**31. Afrika je svou polohou nejbliže:**

- a) Evropě
- b) Asii
- c) Americe



**32. Nejvíce srážek spadne v oblasti:**

- a) Středozemního moře
- b) Mosambického průlivu
- c) Guinejského zálivu

**Doplňte sebehodnocení závěrečného opakování.**

Svůj výkon hodnotím					
	ano	spíše ano	spíše ne	ne	nevím
Byly pro mě úkoly jednoduché?					
Bavily mě úkoly?					
Zlepšil/a jsem se?					

Poznámky: .....

.....

.....

Poznámky: \_\_\_\_\_